



**EVALUAREA COMPETENȚELOR FUNDAMENTALE  
LA FINALUL CLASEI a II-a  
2023**

**Test 1**

**MATEMATICĂ**

**Județul / sectorul.....**

**Localitatea.....**

**Școala.....**

**Numele și prenumele elevei / elevului.....**

.....


**Clasa a II-a.....**

**Băiat**

**Fată**



## LUMEA ANIMALELOR



La dorința elevilor de a discuta despre animale, doamna învățătoare le-a recomandat acestora să afle mai multe informații, citind „Enciclopedia animalelor”.

Andrei, Corina, Răzvan și Ioana au decis să citească fiecare despre animalul preferat.

Numărul paginilor citite de fiecare copil este notat în tabelul de mai jos.

Andrei	Corina	Răzvan	Ioana
125 de pagini	160 de pagini	38 de pagini	75 de pagini

1. Andrei a comparat numărul de pagini citite de el cu numărul paginilor citite de Corina.  
**Compară-le și tu!**  
**Scrive, în caseta de mai jos, unul din semnele  $<$ ,  $>$ ,  $=$  pentru ca relația să fie corectă.**

$$125 \quad \square \quad 160$$


Nu se completează de către elev  
COD

1.

2. Ioana a calculat diferența dintre cel mai mare și cel mai mic număr de pagini citite de cei patru copii.

**Calculează și tu!**

**Scrive, pe spațiul dat, rezolvarea problemei.**








Nu se completează de către elev  
COD

2.

3. Pentru ca toți elevii interesați să poată citi „Enciclopedia animalelor”, doamna învățătoare a adus de la bibliotecă mai multe cărți, pe care le-a așezat pe catedră, ca în imaginea de mai jos. Câte cărți a adus în total doamna învățătoare?

**Calculează prin adunare repetată de termeni egali.**

**Scrie, pe spațiul dat, rezolvarea problemei.**



Nu se completează de către elev  
COD

3.

4. Din „Enciclopedia animalelor”, Răzvan a aflat că un bursuc poate strânge într-o zi 6 kg de porumb, pe care îl depozitează în vizuina sa. Câte kg de porumb strânge bursucul în 4 zile?

**Încercuiește litera corespunzătoare răspunsului corect.**

- a) 2 kg
- b) 6 kg
- c) 10 kg
- d) 24 kg


Nu se completează de către elev  
COD

4.

5. Corina a pregătit, pentru colegii săi, 24 de fotografii cu căprioare și de 4 ori mai puține fotografii cu girafe. Câte fotografii cu girafe a pregătit Corina?

**Calculează prin scădere repetată a aceluiași număr.**

**Scrie, pe spațiul dat, rezolvarea problemei.**




Nu se completează de către elev  
COD

5.

6. Andrei le-a prezentat colegilor săi o planșă cu câteva informații despre elefant.

**Cu ce figură geometrică se aseamănă planșa realizată de Andrei?**

**Încercuiește litera corespunzătoare răspunsului corect.**



**Elefantul este cel mai mare și cel mai greu animal din lume.  
El consumă 250 kg de mâncare și bea în jur de 190 l de apă în fiecare zi.  
Elefantul are 2 colți din fildeș, din care se fac bijuterii deosebit de frumoase.  
El are o memorie foarte bună.**

- a) cerc
- b) dreptunghi
- c) pătrat
- d) triunghi

Nu se completează de către elev  
COD

6.

7. Pentru a se juca, Corina a așezat fotografiile cu animalele preferate ca în șirul de mai jos. Ce fotografii urmează în șir?

**Încercuiește litera corespunzătoare răspunsului corect.**



Nu se completează de către elev  
COD

7.

8. Răzvan a ales 12 fotografii cu animalele sale preferate și a dat câte 3 fotografii prietenilor săi. Câți copii au primit fotografiile?

**Încercuiește litera corespunzătoare răspunsului corect.**

- a) 3 copii
- b) 4 copii
- c) 9 copii
- d) 15 copii

Nu se completează de către elev  
COD

8.

9. Ioana le-a arătat celorlalți copii fotografia de mai jos, în care este prezentată o maimuță, animalul său preferat. În ce parte a fotografiei se află maimuța?

**Încercuiește litera corespunzătoare răspunsului corect.**

- a) în dreapta jos
- b) în dreapta sus
- c) în stânga jos
- d) în stânga sus





Nu se completează de către elev  
COD

9.

10. Fiecare copil a lipit câte o imagine cu animalul preferat pe cartonașe de forme diferite.

**Scrive, în spațiul dat, numele formei geometrice pe care o are cartonașul pe care este lipită imaginea cu o vulpe.**



Cartonașul pe care este lipită imaginea cu o vulpe are formă de \_\_\_\_\_.

Nu se completează de către elev  
COD

10.

11. Ioana a citit din carte, într-o zi, de la ora 8:00 până la ora 10:00. Câte ore a citit ea în  
acea zi?

**Încercuiește litera corespunzătoare răspunsului corect.**

- a) 2 ore
- b) 3 ore
- c) 10 ore
- d) 18 ore

Nu se completează de către elev  
COD

11.

12. Copiii au notat, în tabel, câți litri de apă bea, într-o zi, fiecare dintre următoarele animale:


Girafa	Zebra	Cămila	Elefantul
40 de litri	14 litri	100 de litri	190 de litri

Ei consideră că, în fiecare zi, la Grădina Zoologică, se folosesc 350 de litri de apă  
pentru 1 girafă, 2 zebre, 1 cămilă și 1 elefant. Crezi că au dreptate?

**Explică, în spațiul dat, răspunsul tău.**

Da, pentru că \_\_\_\_\_

Nu, pentru că \_\_\_\_\_



Nu se completează de către elev  
COD

**FELICITĂRI, AI AJUNS LA SFÂRȘITUL TESTULUI!**  
**MULȚUMIM PENTRU PARTICIPARE!**

12.





**EVALUAREA COMPETENȚELOR FUNDAMENTALE  
LA FINALUL CLASEI a II-a  
2023**

**Test 2**

**MATEMATICĂ**

Județul / sectorul.....

Localitatea.....

Școala.....

Numele și prenumele elevei / elevului.....

.....

Clasa a II-a.....

Băiat

Fată








5. Irina a pregătit, pentru colegii săi, 21 de fotografii cu elefanți și de 3 ori mai puține fotografii cu iepuri. Câte fotografii cu iepuri a pregătit Irina?

**Calculează prin scădere repetată a aceluiași număr.**

**Scrie, pe spațiul dat, rezolvarea problemei.**



Nu se completează de către elev  
COD

5.

6. Cosmin le-a prezentat colegilor săi o planșă cu câteva informații despre girafă.

**Cu ce figură geometrică se aseamănă planșa realizată de Cosmin?**

**Încercuiește litera corespunzătoare răspunsului corect.**

- a) cerc
- b) dreptunghi
- c) pătrat
- d) triunghi






**Girafa este cea mai înaltă dintre toate speciile de animale. Masculii pot avea între 4,8 m și 5,5 m înălțime și o greutate de 900 de kg. Numele ei înseamnă „cea mai înaltă dintre toate”. Girafa trăiește în Africa.**

Nu se completează de către elev  
COD

6.

7. Pentru a se juca, Maria a așezat fotografiile cu animalele preferate ca în șirul de mai jos. Ce fotografii urmează în șir?

**Încercuiește litera corespunzătoare răspunsului corect.**



Nu se completează de către elev  
COD

7.

8. Vlad a ales 15 fotografii cu animalele sale preferate și a dat câte 3 fotografii prietenilor săi. Câți copii au primit fotografii?

**Încercuiește litera corespunzătoare răspunsului corect.**

- a) 3 copii
- b) 5 copii
- c) 12 copii
- d) 18 copii

Nu se completează de către elev  
COD

8.

9. Irina le-a arătat celorlalți copii fotografia de mai jos, în care este prezentat un arici, animalul său preferat. În ce parte a fotografiei se află ariciul?

**Încercuiește litera corespunzătoare răspunsului corect.**


- a) în dreapta jos
- b) în dreapta sus
- c) în stânga jos
- d) în stânga sus



Nu se completează de către elev  
COD

9.

10. Fiecare copil a lipit câte o imagine cu animalul preferat pe cartonașe de forme diferite.  
**Scrie, în spațiul dat, numele formei geometrice pe care o are cartonașul pe care este lipită imaginea cu un iepure.**



**Cartonașul pe care este lipită imaginea cu un iepure are formă de \_\_\_\_\_ .**

Nu se completează de către elev  
COD

10.

